





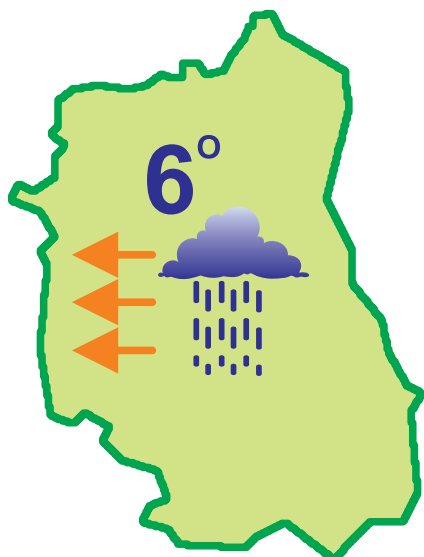
Zadanie 1

Odczytaj temperaturę na termometrach. Połącz je z dziećmi, które są ubrane odpowiednio do pogody.



Zadanie 2

Ania wybiera się na szkolną wycieczkę. Na podstawie mapki pogody zaznacz X pod ubraniami, które Ania powinna na siebie założyć.



Zadanie 3

Spośród podanych ubrań, wybierz te, które założysz podczas deszczowej pogody.
Otocz je niebieską pętlą.

